

Název školy: ZŠ a MŠ Horní Libchava, okres Česká Lípa –
příspěvková organizace

Autor: Marie Medřická

Název materiálu: VY_32_INOVACE_
07_13_MATEMATIKA_Slovní úloha


Číslo projektu: CZ.1.07/1.4.00/21.1925

Vzdělávací obor: Matematika a její aplikace, Matematika

Anotace: Materiál je určen pro žáky 1. ročníku, slouží k procvičení učiva
na interaktivní tabuli

Doplňovací cvičení lze vytisknout jako pracovní list.

Karkulka šla lesem. Prohlédni si obrázek!



Kolik zvířátek Karkulka potkala?






Na louce potkala další 4 zvířátka.
Kolik jich bylo dohromady?



O všem co zažila cestou, pak povídala babičce.
Chtěla jí vyjmenovat všechna zvířátka,
která potkala, ale na dvě si nevpomněla.
Kolik zvířátek vyjmenovala?



Udělej tolik sluníček, kolik je zvířátek....



Použité zdroje:

- galerie Office