

Název školy: ZŠ a MŠ Horní Libchava, okres Česká Lípa –
příspěvková organizace

Autor: Marie Medřická

Název materiálu: VY_32_INOVACE_
07_12_MATEMATIKA_Kolik chybí?

Číslo projektu: CZ.1.07/1.4.00/21.1925

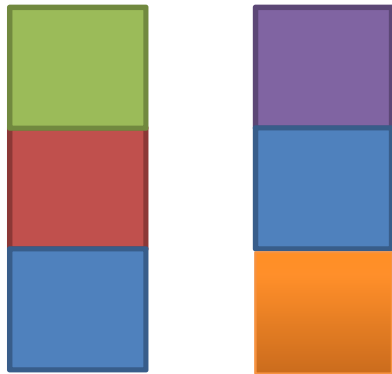
Vzdělávací obor: Matematika a její aplikace, Matematika

Anotace: Materiál je určen pro žáky 1. ročníku, slouží k procvičení učiva na interaktivní tabuli

Doplňovací cvičení lze vytisknout jako pracovní list.

Vypočítej

Pepíček si stavěl z kostiček.




Kolik kostiček **musí** ještě **přidat**, aby bylo v obou věžích stejně kostek?

Jednu.

Vypočítej


Anička navlékala korálky.



Kolik korálků **musí** ještě **přidat**, aby bylo na obou šňůrkách stejně?

Dva.

Doplň do stejného počtu.



Použité zdroje:

- galerie Office