

Název školy: ZŠ a MŠ Horní Libchava, okres Česká Lípa-
příspěvková organizace

Autor: Iva Scharfová


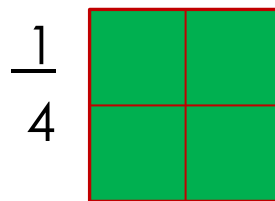
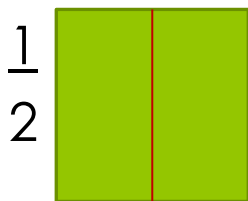
Název materiálu: VY_32_INOVACE_05_Matematika_Zlomky, 5.
tř., sada 05/20

Číslo projektu: CZ.1.07/1.4.00/21.1925

Výuková oblast:
Matematika a její aplikace
Anotace: Materiál je určen
pro žáky 5.ročníku, slouží k
seznámení nového učiva
na interaktivní tabuli

Zlomky

Zopakuj si zápis a čtení zlomků:



Zlomky

Zopakuj si:

3 → **čítateľ**

_____ → zlomková čiara

5 → **imenovateľ**

Zlomky

Zapiš zlomkem:

Dvě pětiny _____

Šest dvanáctin _____

Tři devítiny _____


Deset desetin _____

jedna sedmína _____

pět desetin _____

jedna setina _____

šest polovin _____



Zlomky

Přečti zlomky, urči co je čitatel a jmenovatel:

$$\frac{2}{6}$$

$$\frac{4}{8}$$

$$\frac{1}{10}$$

$$\frac{7}{2}$$

$$\frac{10}{5}$$

$$\frac{23}{12}$$

$$\frac{100}{100}$$

$$\frac{15}{22}$$

Zlomky

Pamatuj!

Třetinu vypočítám, že číslo dělím _____.

Čtvrtinu vypočítám, že číslo dělím _____.

Pětinu vypočítám, že číslo dělím _____.

Šestinu vypočítám, že číslo dělím _____.

Osminu vypočítám, že číslo dělím _____.

desetinu: vypočítám, že číslo dělím _____.



Zlomky



Doplň tabulky:

	Třetina	šestina
18		
360		
666		

	Čtvrtina	osmina
64		
248		
720		

Použité zdroje

- Galerie Office
- Matematika 5, Alter
- Citováno dne 28.10.2012