

**Název školy:** ZŠ a MŠ Horní Libchava, okres Česká Lípa-  
příspěvková organizace

**Autor:** Iva Scharfová

**Název**

**materiálu:** VY\_32\_INOVACE\_05\_Matematika\_Opakování ze 2.  
ročníku , sada 05/01

**Číslo projektu:** CZ.1.07/1.4.00/21.1925

Vzdělávací obor:  
Matematika a její aplikace  
Anotace: Materiál je určen  
pro žáky 3.ročníku, slouží k  
opakování učiva z  
předěšlého ročníku na  
interaktivní tabuli

# Opakování

○ PAMATUJ:




$$\begin{array}{ccccccc} 30 & & + & & 20 & & = & & 50 \\ \text{sčítanec} & & & & \text{sčítanec} & & & & \text{součet} \end{array}$$

$$\begin{array}{ccccccc} 40 & & - & & 10 & & = & & 30 \\ \text{menšenec} & & & & \text{menšitel} & & & & \text{rozdíl} \end{array}$$

# Opakování

○ PAMATUJ:



$$\begin{array}{ccccccc} 3 & & \cdot & & 4 & = & 12 \\ \text{činitel} & & & & \text{činitel} & & \text{součin} \end{array}$$

$$\begin{array}{ccccccc} 12 & & : & & 4 & = & 3 \\ \text{dělenec} & & & & \text{dělitel} & & \text{podíl} \end{array}$$

# Opakování

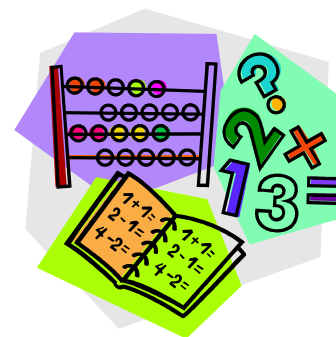
○ Pojmenuj :

○  $12 + 3 = 15$

○  $15 : 5 = 3$

○  $24 - 4 = 20$

○  $8 \cdot 2 = 16$



# Opakování

o Doplně znaménka


< , > , =

3	2
6	8
16	18
61	38
27	26
7	9

9	5
73	73
45	54
99	66
20	19
1	0

# Opakování

Napiš správnou odpověď do sešitu:



**Zdeněk má 29 švestek, Pavel má 31 švestek. Kdo jich má více?**

**Tatínkovi je 35 let, mamince je 30 let. O kolik je tatínek starší než maminka?**

**Michal měl 20 kuliček. V první hře 7 vyhrál a ve druhé hře 4 prohrál. Kolik má nyní kuliček?**

# Opakování

○ Přřad' správné výsledky:

○  $18 + 2$

22

$15 + 7$

○  $9 + 33$

20

$24 - 4$

○  $49 - 5$

44

$51 - 9$

○  $18 + 4$

42

$80 - 36$



# Použité zdroje

- Galerie Office
- Matematika 3, Alter
- Citováno dne 07.08.2012